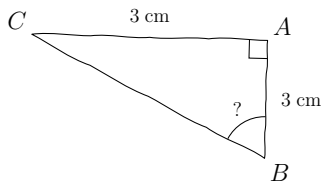
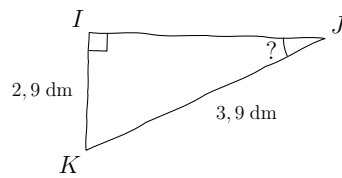


Compétence travaillée	Difficulté	Socle commun	Nombre d'erreurs
Calculs trigonométriques	★☆☆☆☆		

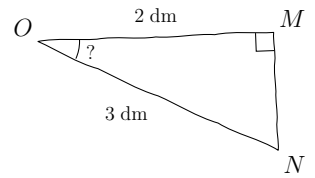
1) Calculer \widehat{ABC} , au dixième près



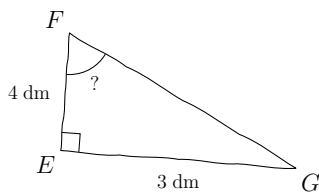
2) Calculer \widehat{IJK} , au centième près



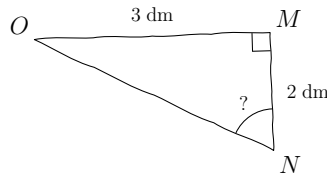
3) Calculer \widehat{MON} , au centième près



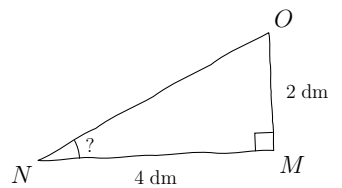
4) Calculer \widehat{EFG} , au dixième près



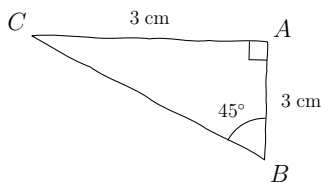
5) Calculer \widehat{MNO} , au centième près



6) Calculer \widehat{MNO} , au degré près

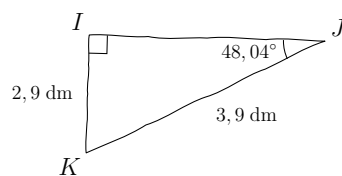


1) $\widehat{ABC} = 45^\circ$ au dixième près



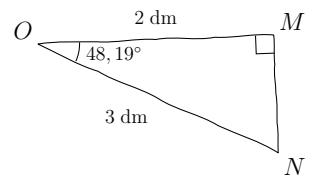
Utilisation de la touche $\boxed{\text{TAN}^{-1}}$

2) $\widehat{IJK} = 48,04^\circ$ au centième près



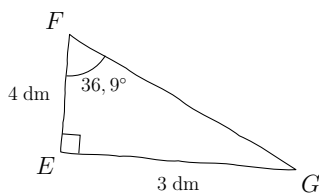
Utilisation de la touche $\boxed{\text{SIN}^{-1}}$

3) $\widehat{MON} = 48,19^\circ$ au centième près



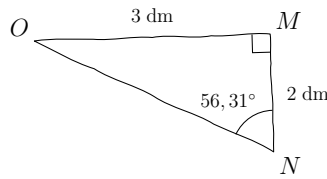
Utilisation de la touche $\boxed{\text{COS}^{-1}}$

4) $\widehat{EFG} = 36,9^\circ$ au dixième près



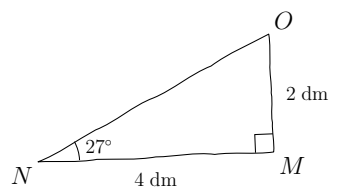
Utilisation de la touche $\boxed{\text{TAN}^{-1}}$

5) $\widehat{MNO} = 56,31^\circ$ au centième près



Utilisation de la touche $\boxed{\text{TAN}^{-1}}$

6) $\widehat{MNO} = 27^\circ$ au degré près



Utilisation de la touche $\boxed{\text{TAN}^{-1}}$