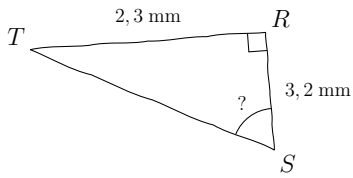
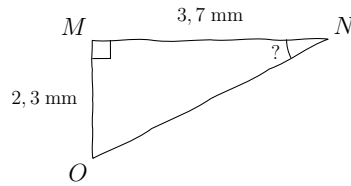


Compétence travaillée	Difficulté	Socle commun	Nombre d'erreurs
Calculs trigonométriques	★☆☆☆☆		

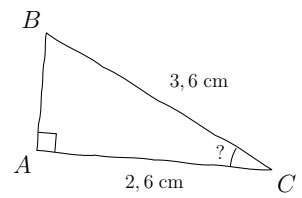
1) Calculer  $\widehat{RST}$ , au degré près



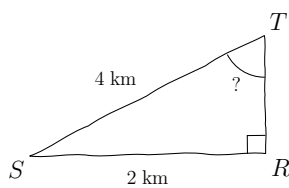
2) Calculer  $\widehat{MNO}$ , au dixième près



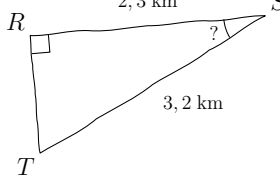
3) Calculer  $\widehat{ACB}$ , au dixième près



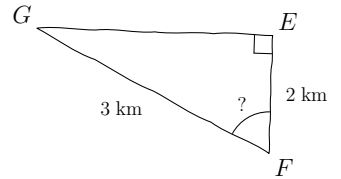
4) Calculer  $\widehat{RTS}$ , au dixième près



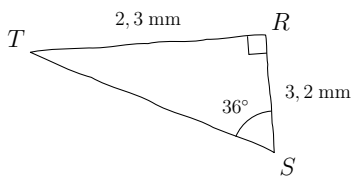
5) Calculer  $\widehat{RST}$ , au dixième près



6) Calculer  $\widehat{EFG}$ , au dixième près

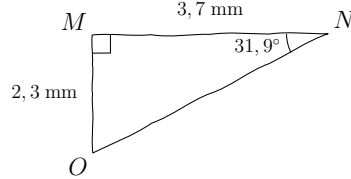


1)  $\widehat{RST} = 36^\circ$  au degré près



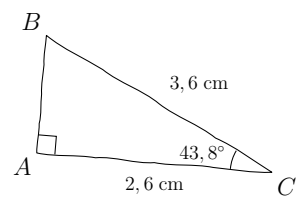
Utilisation de la touche  $\boxed{\text{TAN}^{-1}}$

2)  $\widehat{MNO} = 31,9^\circ$  au dixième près



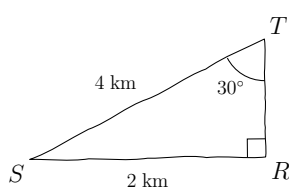
Utilisation de la touche  $\boxed{\text{TAN}^{-1}}$

3)  $\widehat{ACB} = 43,8^\circ$  au dixième près



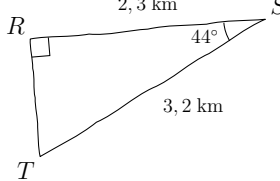
Utilisation de la touche  $\boxed{\text{COS}^{-1}}$

4)  $\widehat{RTS} = 30^\circ$  au dixième près



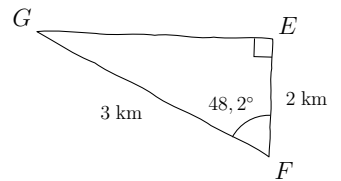
Utilisation de la touche  $\boxed{\text{SIN}^{-1}}$

5)  $\widehat{RST} = 44^\circ$  au dixième près



Utilisation de la touche  $\boxed{\text{COS}^{-1}}$

6)  $\widehat{EFG} = 48,2^\circ$  au dixième près



Utilisation de la touche  $\boxed{\text{COS}^{-1}}$