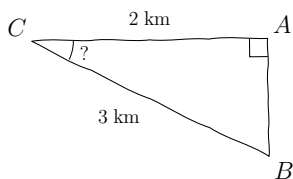
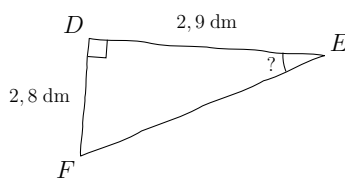


Compétence travaillée	Difficulté	Socle commun	Nombre d'erreurs
Calculs trigonométriques	★☆☆☆☆		

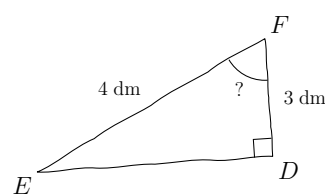
1) Calculer \widehat{ACB} , au dixième près



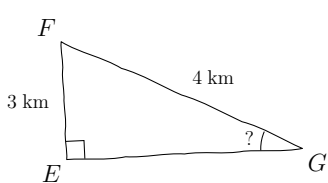
2) Calculer \widehat{DEF} , au centième près



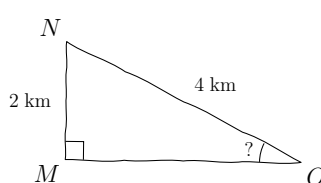
3) Calculer \widehat{DFE} , au centième près



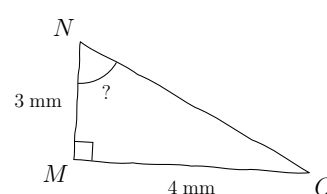
4) Calculer \widehat{EGF} , au dixième près



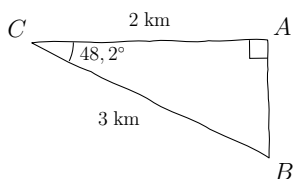
5) Calculer \widehat{MON} , au dixième près



6) Calculer \widehat{MNO} , au dixième près

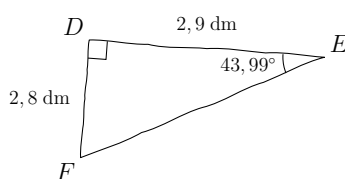


1) $\widehat{ACB} = 48,2^\circ$ au dixième près



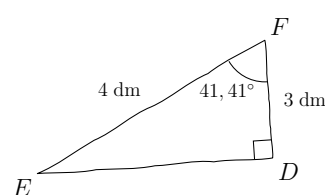
Utilisation de la touche $\boxed{\text{COS}^{-1}}$

2) $\widehat{DEF} = 43,99^\circ$ au centième près



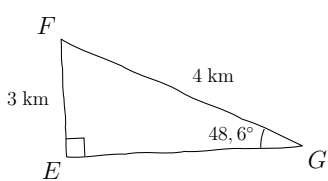
Utilisation de la touche $\boxed{\text{TAN}^{-1}}$

3) $\widehat{DFE} = 41,41^\circ$ au centième près



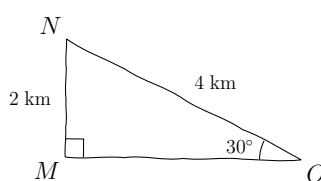
Utilisation de la touche $\boxed{\text{COS}^{-1}}$

4) $\widehat{EGF} = 48,6^\circ$ au dixième près



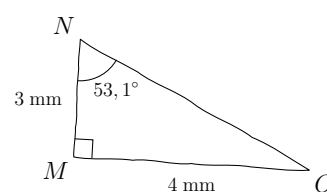
Utilisation de la touche $\boxed{\text{SIN}^{-1}}$

5) $\widehat{MON} = 30^\circ$ au dixième près



Utilisation de la touche $\boxed{\text{SIN}^{-1}}$

6) $\widehat{MNO} = 53,1^\circ$ au dixième près



Utilisation de la touche $\boxed{\text{TAN}^{-1}}$