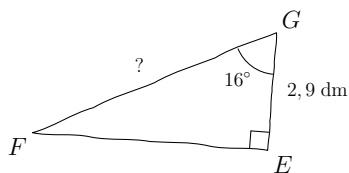
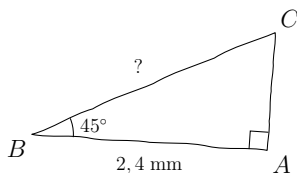


Compétence travaillée	Difficulté	Socle commun	Nombre d'erreurs
Calculs trigonométriques	★☆☆☆☆		

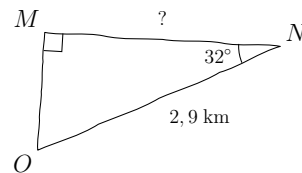
1) Calculer FG, au dixième près



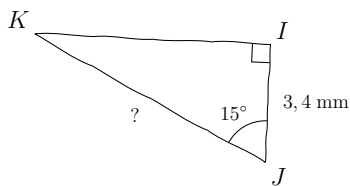
2) Calculer BC, au centième près



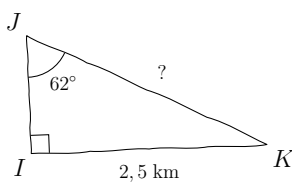
3) Calculer MN, au centième près



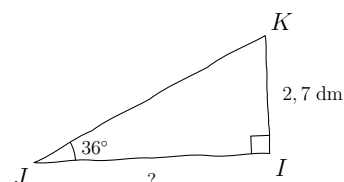
4) Calculer JK, à l'unité près



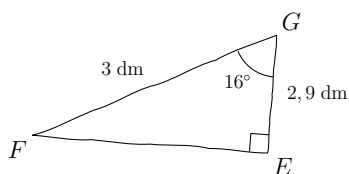
5) Calculer JK, au centième près



6) Calculer IJ, au dixième près

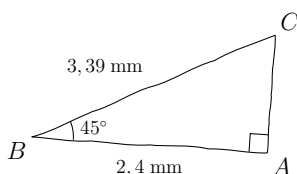


1) $FG = 3$ dm au dixième près



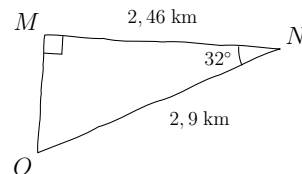
Utilisation de la touche **COS**

2) $BC = 3,39$ mm au centième près



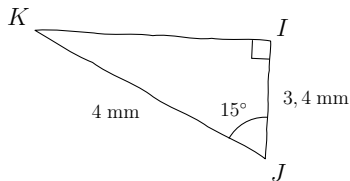
Utilisation de la touche **COS**

3) $MN = 2,46$ km au centième près



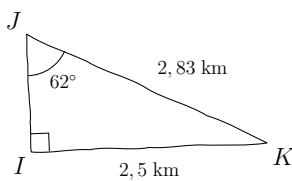
Utilisation de la touche **COS**

4) $JK = 4$ mm à l'unité près



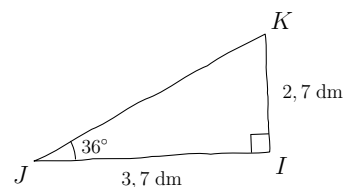
Utilisation de la touche **COS**

5) $JK = 2,83$ km au centième près



Utilisation de la touche **SIN**

6) $IJ = 3,7$ dm au dixième près



Utilisation de la touche **TAN**