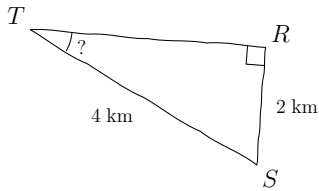
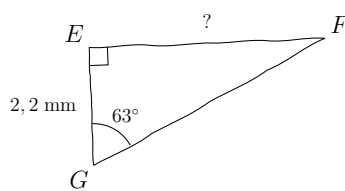


Compétence travaillée	Difficulté	Socle commun	Nombre d'erreurs
Calculs trigonométriques	★☆☆☆☆		

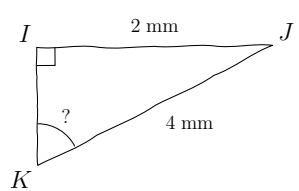
1) Calculer \widehat{RTS} , au centième près



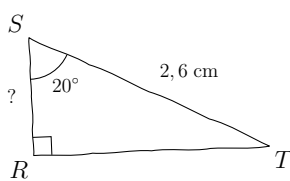
2) Calculer EF, au centième près



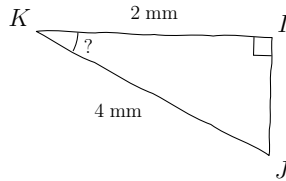
3) Calculer \widehat{IKJ} , au centième près



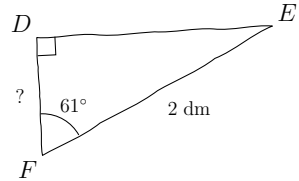
4) Calculer RS, au centième près



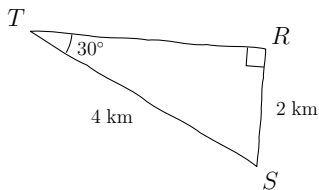
5) Calculer \widehat{IKJ} , au centième près



6) Calculer DF, au centième près

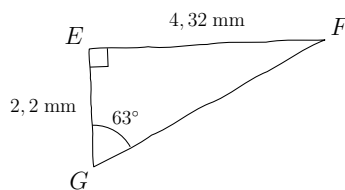


1) $\widehat{RTS} = 30^\circ$ au centième près



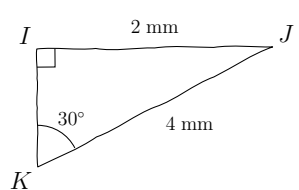
Utilisation de la touche $\boxed{\text{SIN}^{-1}}$

2) $EF = 4,32$ mm au centième près



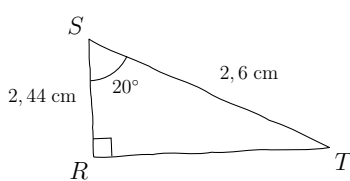
Utilisation de la touche $\boxed{\text{TAN}}$

3) $\widehat{IKJ} = 30^\circ$ au centième près



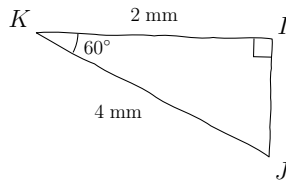
Utilisation de la touche $\boxed{\text{SIN}^{-1}}$

4) $RS = 2,44$ cm au centième près



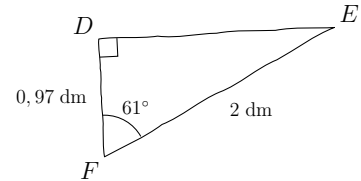
Utilisation de la touche $\boxed{\text{COS}}$

5) $\widehat{IKJ} = 60^\circ$ au centième près



Utilisation de la touche $\boxed{\text{COS}^{-1}}$

6) $DF = 0,97$ dm au centième près



Utilisation de la touche $\boxed{\text{COS}}$