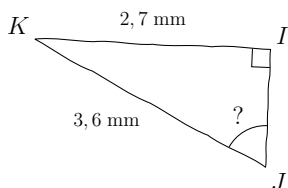
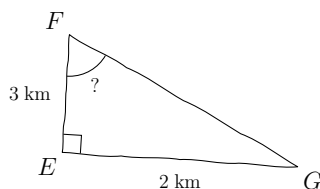


Compétence travaillée	Difficulté	Socle commun	Nombre d'erreurs
Calculs trigonométriques	★☆☆☆☆		

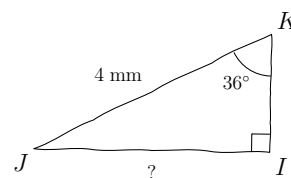
1) Calculer \widehat{JKI} , au centième près



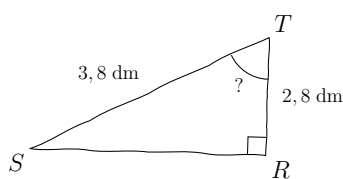
2) Calculer \widehat{EFG} , au centième près



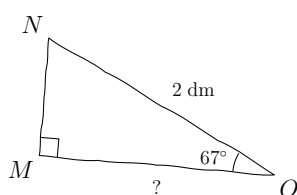
3) Calculer IJ, au centième près



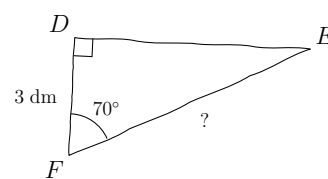
4) Calculer \widehat{RTS} , au centième près



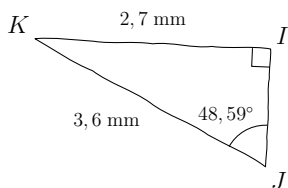
5) Calculer MO, au centième près



6) Calculer EF, au dixième près

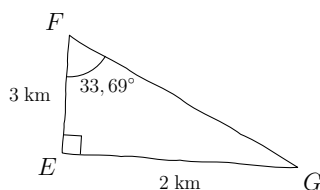


1) $\widehat{JKI} = 48,59^\circ$ au centième près



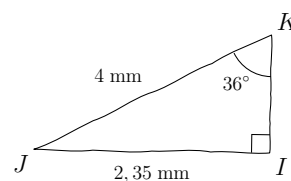
Utilisation de la touche SIN⁻¹

2) $\widehat{EFG} = 33,69^\circ$ au centième près



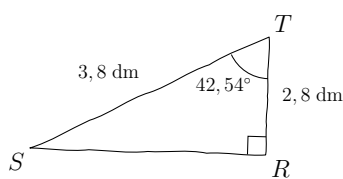
Utilisation de la touche TAN⁻¹

3) IJ = 2,35 mm au centième près



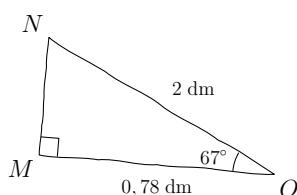
Utilisation de la touche SIN

4) $\widehat{RTS} = 42,54^\circ$ au centième près



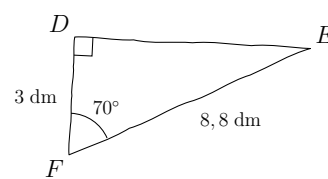
Utilisation de la touche COS⁻¹

5) MO = 0,78 dm au centième près



Utilisation de la touche COS

6) EF = 8,8 dm au dixième près



Utilisation de la touche COS